

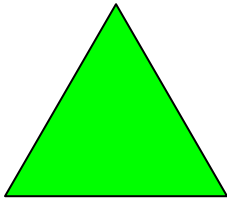
VY_42_INOVACE_1_26_M_ROVINNÉ OBRAZCE


Pracovní list pro 5.ročník je možné použít pro společnou i samostatnou práci.

VM je určen na procvičení učiva poznávání geometrických tvarů, rýsování a výpočtu obvodu některých rovinných obrazců.


Autor: Mgr. Ivana Schaurová


Pojmenuj geometrické tvary.

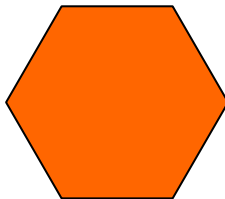





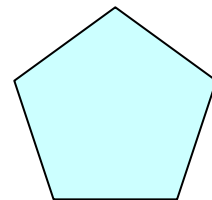












Vypiš, které z těchto geometrických tvarů obsahují pravý úhel a dva z nich narýsuj. Libovolně si zvol délku jejich stran. Vypočítej obvody těchto obrazců.

Náčrt:

Výpočet:

Náčrt:

Výpočet:

Sestav obrázek z těchto geometrických tvarů.