


VY_42_INOVACE_28_M_OBSAH ČTVERCE, OBDÉLNÍKU

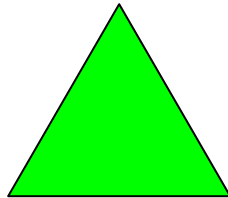
Pracovní list pro 4.ročník je možné použít pro společnou i samostatnou práci.


VM je určen na procvičení výpočtu obvodu, obsahu čtverce, obdélníku a rýsování těchto rovinných geometrických obrazců.

Autor: Mgr. Ivana Schaurová

1. Změř strany geometrických obrazců a vypočítej jejich obvod.







2. Narýsuj a vypočítej obsah geometrických obrazců.

Čtverec, jehož strana má délku 45 mm.

Náčrt

Výpočet:

Rýsování:

Odpověď: _____

Obdélník o straně $a = 3$ cm a straně b , která je dvakrát delší než strana a .

Náčrt:

Výpočet:

Rýsování:

Odpověď: _____

3. Nakresli postavičku z geometrických tvarů, které znáš.